



**Informazioni personali**

Si prega di indicare il proprio nome, cognome e numero di matricola nei seguenti campi.

Nome e cognome: \_\_\_\_\_ Matricola: \_\_\_\_\_

Si prega inoltre di compilare i seguenti campi, in base alla scelta che si intende fare.

Chiedo che il mio elaborato venga corretto e valutato. Il voto che conseguo con questa prova annulla eventuali voti già conseguiti in appelli d'esame precedenti.

Firma: \_\_\_\_\_ Numero di fogli consegnati: \_\_\_\_\_

Intendo ritirarmi; chiedo che il mio elaborato non venga corretto nè valutato.

Firma: \_\_\_\_\_

**INDICAZIONI PER I CANDIDATI**

DURANTE LA PROVA NON È CONSENTITO AGLI STUDENTI UTILIZZARE TESTI E/O APPUNTI, NÈ COMUNICARE TRA LORO O CON L'ESTERNO; PERTANTO I TELEFONI CELLULARI ED I DISPOSITIVI MULTIMEDIALI DEVONO RESTARE SPENTI!

Scrivete le vostre risposte in modo ordinato, utilizzando la penna stilografica o la penna a sfera; disegnatte a matita i grafici delle funzioni. In caso di errore, tracciate un segno sulla risposta scorretta e scrivete accanto ad essa quella corretta.

NON È AMMESSO L'USO DELLA CANCELLINA NÈ DELLA PENNA ROSSA! Si possono, invece, utilizzare penne di qualsiasi colore diverso dal ROSSO; è ammesso l'uso della calcolatrice scientifica non programmabile o grafica.

Alle risposte e alle correzioni scritte in modo illeggibile verranno assegnati 0 punti.

Utilizzate i fogli della "brutta copia" (che dovranno essere opportunamente contrassegnati) solo per l'impostazione delle soluzioni, in quanto essi non verranno sottoposti a valutazione.

Le risposte devono riportare tutto il procedimento attraverso il quale si giunge alla soluzione, con i calcoli intermedi e le vostre deduzioni. Punteggi parziali potranno essere assegnati a svolgimenti incompleti o con errori non particolarmente gravi.

Abbiate fiducia in voi stessi e nelle vostre capacità. Buon lavoro!

*Lorenzo Meneghini*

**Testo della prova**

**QUESITO 1 (\_\_\_\_/7)**

Studiare la funzione  $f(x) = \frac{x^2 + 1}{x^2 - 1}$  determinando esplicitamente dominio, parità, segno ed eventuali

intersezioni con gli assi, eventuali asintoti, monotonia ed eventuali estremi. Dopo aver verificato che

$f''(x) = 4 \frac{3x^2 + 1}{(x^2 - 1)^3}$ , determinare concavità ed eventuali flessi. Disegnare il grafico della funzione.

**QUESITO 2 (\_\_\_\_/6)**

Dire se la funzione  $f(x) = x^2 - \frac{4x^2 - x}{x^2 - 4}$  può ammettere asintoti orizzontali od obliqui, motivando la risposta; in

caso di risposta negativa, determinare l'eventuale funzione asintotica, specificando di che funzione si tratta.

Calcolare, inoltre, la tangente al grafico della curva, passante per il suo punto di ascissa 1.

**QUESITO 3 ( \_\_\_/6)**

Calcolare i seguenti limiti, specificando quale tra essi non può essere calcolato mediante il Teorema di De l'Hospital:

a)  $\lim_{x \rightarrow 0^+} x \ln(3x) =$

b)  $\lim_{x \rightarrow 0} \frac{x(e^{3x} - 1)}{\ln(5x^2 + 1)} =$

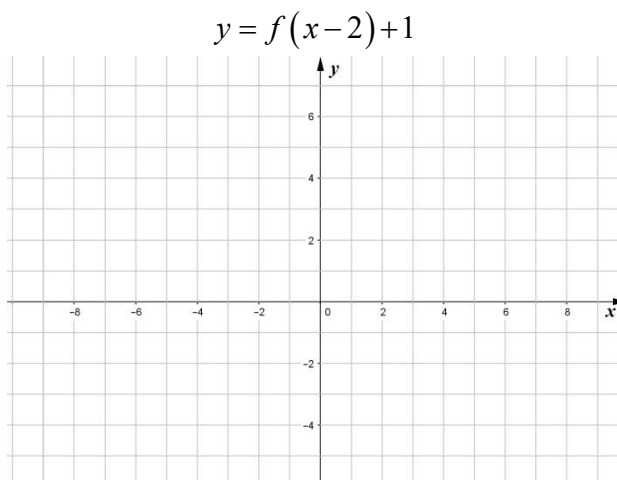
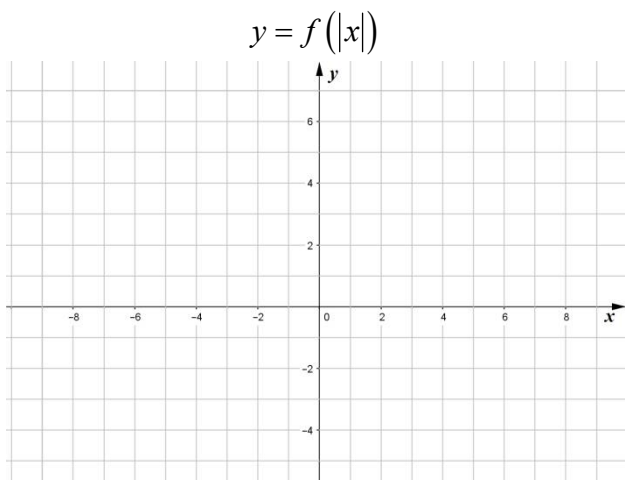
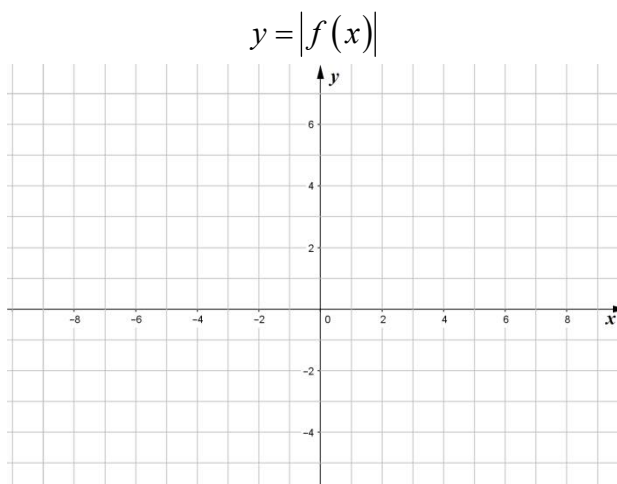
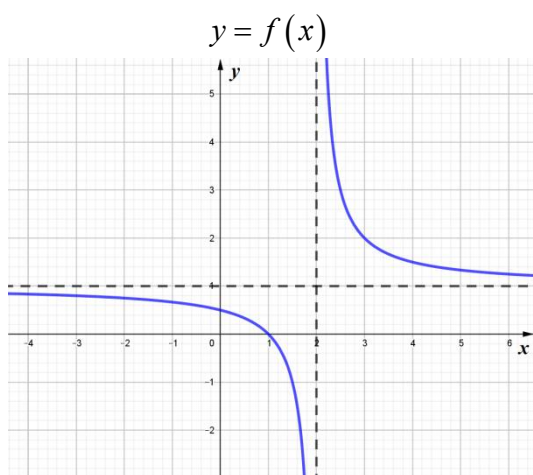
c)  $\lim_{x \rightarrow +\infty} \frac{x \cdot e^x}{x^2 - 2x + 3} =$

**QUESITO 4 ( \_\_\_/6)**

Classificare i punti di non derivabilità della funzione  $f(x) = \sqrt[3]{x^3 - 2x^2}$  e calcolarne gli estremi relativi.

**QUESITO 5 ( \_\_\_/6)**

Dato il grafico della funzione  $f(x)$  in figura, disegnare i grafici delle funzioni indicate, utilizzando gli spazi a disposizione in questo foglio. Dire inoltre se le funzioni trasformate hanno punti di non derivabilità, motivando la risposta, su foglio a parte.



Punteggio totale: \_\_\_\_\_/30

**Svolgimento – Fila A**

**N. 1**

$$f(x) = \frac{x^2 + 1}{x^2 - 1}$$

- DOMINIO:  $x^2 - 1 \neq 0 \Leftrightarrow x \neq \pm 1$
- PARITÀ:  $f(-x) = \frac{(-x)^2 + 1}{(-x)^2 - 1} = \frac{x^2 + 1}{x^2 - 1} = f(x)$  per ogni  $x \in D \Rightarrow$  funzione pari (simmetrica rispetto

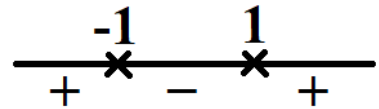
all'asse y)

- SEGNO ED INTERSEZIONI CON GLI ASSI:

$$f(x) \geq 0 \Leftrightarrow \frac{x^2 + 1}{x^2 - 1} \geq 0 \Leftrightarrow x^2 - 1 > 0 \text{ dal momento che}$$

$$x^2 + 1 > 0, \forall x \in D \Leftrightarrow x < -1 \vee x > 1$$

$$f(0) = -1 \Rightarrow \text{la funzione taglia l'asse y in } (0, -1)$$



- RICERCA DEGLI ASINTOTI:

$$\lim_{x \rightarrow +\infty} \frac{x^2 + 1}{x^2 - 1} = \lim_{x \rightarrow +\infty} \frac{x^2 \left(1 + \frac{1}{x^2}\right)}{x^2 \left(1 - \frac{1}{x^2}\right)} = \lim_{x \rightarrow +\infty} \frac{1 + \frac{1}{x^2}}{1 - \frac{1}{x^2}} = 1 \Rightarrow \text{la funzione ammette l'asintoto orizzontale}$$

$y = 1$  per  $x \rightarrow +\infty$ ; per parità ammette lo stesso asintoto anche per  $x \rightarrow -\infty$

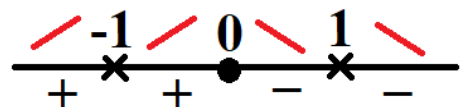
$$\lim_{x \rightarrow 1^+} \frac{x^2 + 1}{x^2 - 1} = +\infty \text{ e } \lim_{x \rightarrow 1^-} \frac{x^2 + 1}{x^2 - 1} = -\infty \Rightarrow \text{la funzione ammette l'asintoto verticale } x = 1; \text{ per parità}$$

ammette anche l'asintoto verticale  $x = -1$

- STUDIO DELLA CRESCENZA:

$$f'(x) = \frac{2x(x^2 - 1) - 2x(x^2 + 1)}{(x^2 - 1)^2} = \dots = -4 \frac{x}{(x^2 - 1)^2} \geq 0 \Leftrightarrow x \leq 0 \text{ in } D$$

$(0, -1)$  è punto di massimo (relativo) per la curva

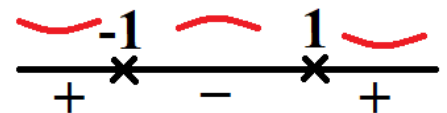


- STUDIO DELLA CONCAVITÀ:

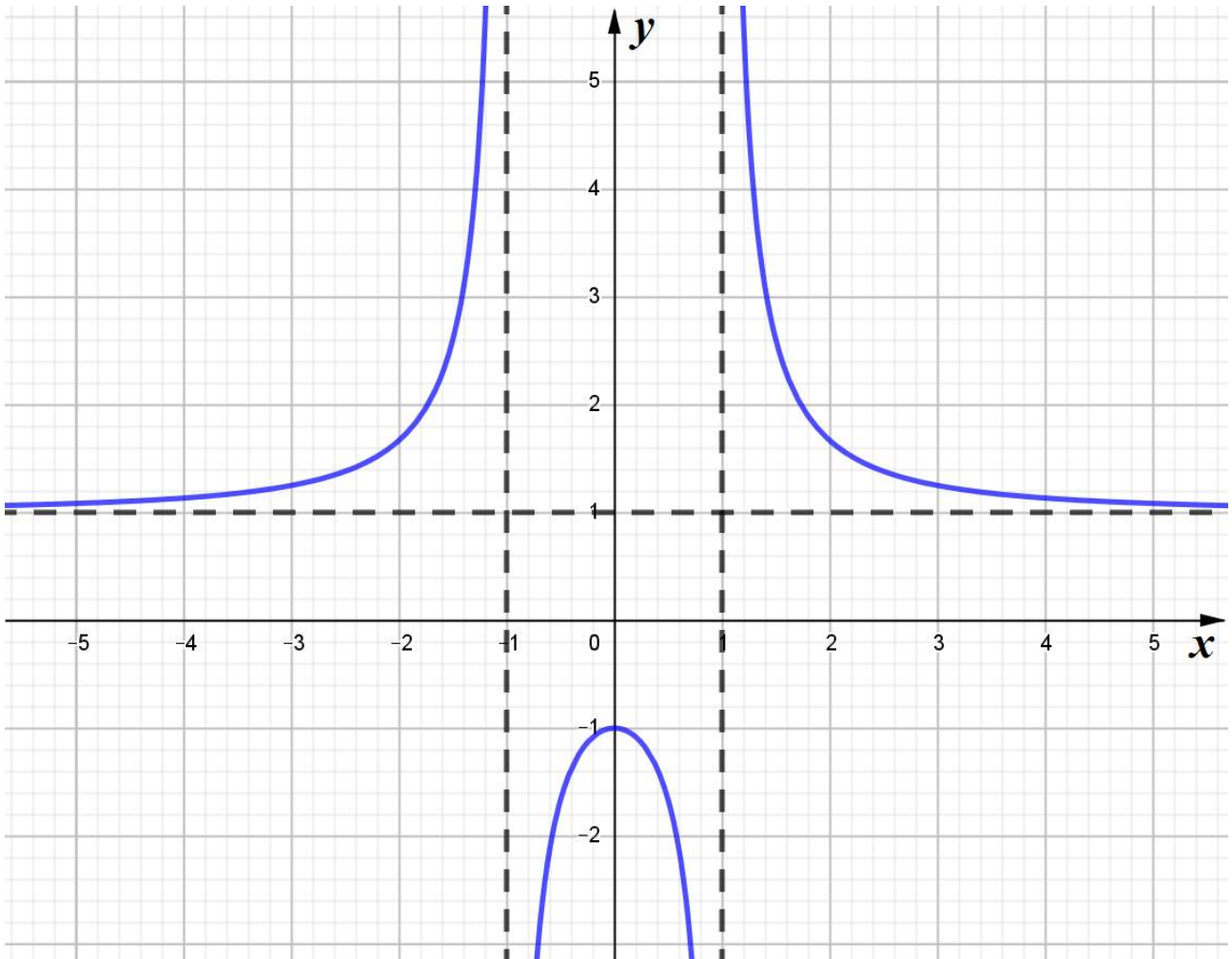
$$f''(x) = -4 \frac{(x^2 - 1)^2 - 2(x^2 - 1) \cdot 2x \cdot x}{(x^2 - 1)^4} = -4 \frac{(x^2 - 1) - 4x^2}{(x^2 - 1)^3} = 4 \frac{3x^2 + 1}{(x^2 - 1)^3} \geq 0$$

Dal momento che  $3x^2 + 1 > 0, \forall x \in D$ , risulta:  $f''(x) \geq 0 \Leftrightarrow x^2 - 1 > 0$

$\Rightarrow$  non vi sono punti di flesso.



Il grafico della funzione è quindi:



**N. 2**

La funzione  $f(x) = x^2 - \frac{4x^2 - x}{x^2 - 4}$  non può ammettere né asintoti orizzontali né obliqui. Infatti:

- $\lim_{x \rightarrow +\infty} f(x) = \lim_{x \rightarrow +\infty} x^2 - \frac{4x^2 - x}{x^2 - 4} = \lim_{x \rightarrow +\infty} x^2 - \frac{x^2 \left(4 - \frac{1}{x}\right)}{x^2 \left(1 - \frac{4}{x^2}\right)} = \lim_{x \rightarrow +\infty} x^2 - \frac{4 - \frac{1}{x}}{1 - \frac{4}{x^2}} = +\infty$
- $\lim_{x \rightarrow +\infty} \frac{f(x)}{x} = \lim_{x \rightarrow +\infty} x - \frac{4x - 1}{x^2 - 4} = \lim_{x \rightarrow +\infty} x - \frac{x \left(4 - \frac{1}{x}\right)}{x^2 \left(1 - \frac{4}{x^2}\right)} = \lim_{x \rightarrow +\infty} x - \frac{4 - \frac{1}{x}}{x \left(1 - \frac{4}{x^2}\right)} = \infty$

Analogamente, anche:

- $\lim_{x \rightarrow -\infty} f(x) = \lim_{x \rightarrow -\infty} x^2 - \frac{4x^2 - x}{x^2 - 4} = \dots = +\infty$
- $\lim_{x \rightarrow -\infty} \frac{f(x)}{x} = \lim_{x \rightarrow -\infty} x - \frac{4x - 1}{x^2 - 4} = \dots = \infty$

La funzione ammette, però, una curva asintotica; osserviamo infatti che:

$$f(x) = x^2 - \frac{4x^2 - x}{x^2 - 4} = x^2 - \frac{4x^2 - 16 + 16 - x}{x^2 - 4} = x^2 - \frac{4(x^2 - 4) + 16 - x}{x^2 - 4} = x^2 - 4 + \frac{x - 16}{x^2 - 4}$$

ed essendo (com'è facile verificare)

$$\lim_{x \rightarrow \infty} \frac{x - 16}{x^2 - 4} = 0$$

possiamo concludere che la **parabola** di equazione  $y = x^2 - 4$  è a curva asintotica cercata.

- $f(1) = 1 - 4 + \frac{1-16}{1-4} = -3 + 5 = 2 \Rightarrow$  la curva passa per  $(1, 2)$
- $f'(x) = 2x + \frac{x^2 - 4 - (x-16) \cdot 2x}{(x^2 - 4)^2}$
- $f'(1) = 2 \cdot 1 + \frac{1-4 - (1-16) \cdot 2}{(1-4)^2} = 2 + \frac{-3+30}{9} = 2 + 3 = 5 \Rightarrow$  coefficiente angolare tangente:  $m = 5$

Retta per  $P(1,2)$ :

$$y - 2 = m(x - 1)$$

Per  $m = 5$ , allora:

$$y - 2 = 5(x - 1) \Leftrightarrow y = 5x - 3$$

**N. 3**

- a)  $\lim_{x \rightarrow 0^+} \underbrace{x}_{\downarrow 0} \ln(\underbrace{3x}_{\downarrow -\infty}) = \lim_{x \rightarrow 0^+} \frac{\ln(3x)}{x^{-1}} \stackrel{H}{=} \lim_{x \rightarrow 0^+} \frac{\frac{1}{3x} \cdot 3}{-x^{-2}} = \lim_{x \rightarrow 0^+} \frac{1}{x} \cdot x^2 = \lim_{x \rightarrow 0^+} x = 0$
- b)  $\lim_{x \rightarrow 0} \frac{x(e^{3x} - 1)}{\ln(5x^2 + 1)} = \lim_{x \rightarrow 0} \frac{x^2}{\ln(5x^2 + 1)} \cdot \frac{e^{3x} - 1}{x} = \lim_{x \rightarrow 0} \frac{1}{\frac{\ln(5x^2 + 1)}{5x^2} \cdot 5} \cdot \frac{e^{3x} - 1}{x} \cdot 3 = \frac{3}{5}$  in questo caso non è

possibile utilizzare il teorema di de l'Hospital, trattandosi del rapporto tra due limiti notevoli.

- c)  $\lim_{x \rightarrow +\infty} \frac{x \cdot e^x}{x^2 - 2x + 3} \stackrel{H}{=} \lim_{x \rightarrow +\infty} \frac{e^x + xe^x}{2x - 2} = \lim_{x \rightarrow +\infty} \frac{x + 1}{\frac{1}{2}} \cdot \frac{e^x}{+\infty} = +\infty$

**N. 4**

Il dominio della funzione  $f(x) = \sqrt[3]{x^3 - 2x^2}$  è  $D = \mathbb{R}$ , perché la radice è di indice dispari.

Calcoliamone la derivata:

$$f'(x) = \frac{1}{3\sqrt[3]{(x^3 - 2x^2)^2}} (3x^2 - 4x) = \frac{x(3x - 4)}{3\sqrt[3]{x^4(x - 2)^2}} = \frac{x(3x - 4)}{3x\sqrt[3]{x(x - 2)^2}} = \frac{3x - 4}{3\sqrt[3]{x(x - 2)^2}}$$

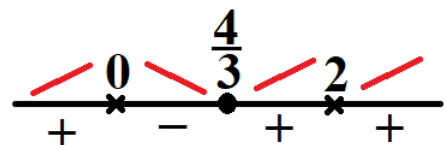
Il dominio della derivata prima è  $D_1 = \mathbb{R} \setminus \{0, 2\}$ .

Analizziamo la derivabilità della funzione in  $x = 0$  e  $x = 2$ .

- $\lim_{x \rightarrow 0} f'(x) = \lim_{x \rightarrow 0} \frac{3x - 4}{3\sqrt[3]{x(x - 2)^2}} = \infty$
- $\lim_{x \rightarrow 2} f'(x) = \lim_{x \rightarrow 2} \frac{3x - 4}{3\sqrt[3]{x(x - 2)^2}} = \infty$

In entrambi i casi si tratta di punti a tangente verticale. Dobbiamo decidere se si tratta di flessi a tangente verticale o di cuspidi. Per farlo, studiamo la crescita della funzione:

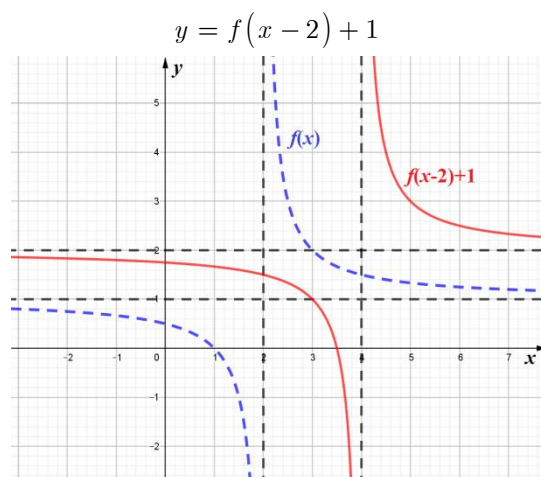
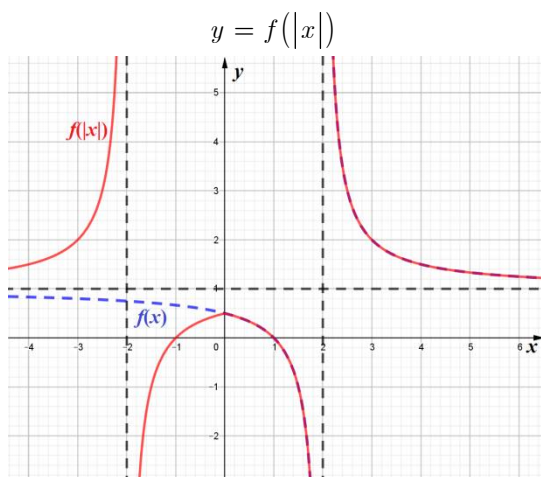
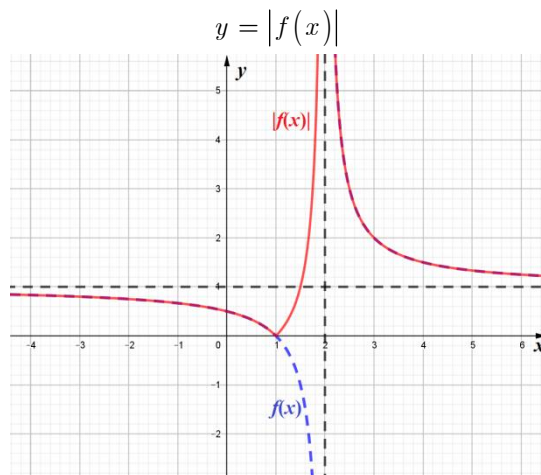
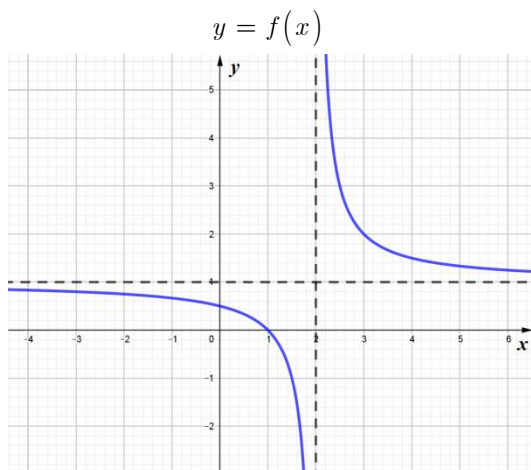
$$f'(x) \geq 0 \Leftrightarrow \frac{3x - 4}{\sqrt[3]{x(x - 2)^2}} \geq 0 \Leftrightarrow \frac{3x - 4}{\sqrt[3]{x}} \geq 0$$



Quindi la funzione ha una **cuspid**e in  $x=0$  ed un punto di **flesso a tangente verticale** in  $x=2$ . Inoltre, la funzione ha un massimo relativo (non stazionario) nella cuspid>e ed un minimo stazionario per  $x=\frac{4}{3}$ .

Più precisamente: MAX  $(0,0)$  e MIN  $\left(\frac{4}{3}, -\frac{2\sqrt[3]{4}}{3}\right)$

**N. 5**



- La funzione  $y = |f(x)|$  ha un punto angoloso in  $x=1$  in quanto la funzione  $y = f(x)$  non ha tangente orizzontale per  $x=1$ . In tal caso, quindi, la funzione  $y = |f(x)|$  avrà, per  $x=1$ , la tangente destra diversa da quella sinistra.
- La funzione  $y = f(|x|)$  ha un punto angoloso in  $x=0$  in quanto la funzione  $y = f(x)$  non ha tangente orizzontale per  $x=0$ . In tal caso, quindi, la funzione  $y = f(|x|)$  avrà, per  $x=0$ , la tangente destra diversa da quella sinistra.
- La funzione  $y = f(x-2) + 1$  non ha punti di non derivabilità, in quanto ottenuta da  $y = f(x)$  mediante una traslazione.



**Informazioni personali**

Si prega di indicare il proprio nome, cognome e numero di matricola nei seguenti campi.

Nome e cognome: \_\_\_\_\_ Matricola: \_\_\_\_\_

Si prega inoltre di compilare i seguenti campi, in base alla scelta che si intende fare.

Chiedo che il mio elaborato venga corretto e valutato. Il voto che conseguo con questa prova annulla eventuali voti già conseguiti in appelli d'esame precedenti.

Firma: \_\_\_\_\_ Numero di fogli consegnati: \_\_\_\_\_

Intendo ritirarmi; chiedo che il mio elaborato non venga corretto nè valutato.

Firma: \_\_\_\_\_

**INDICAZIONI PER I CANDIDATI**

DURANTE LA PROVA NON È CONSENTITO AGLI STUDENTI UTILIZZARE TESTI E/O APPUNTI, NÈ COMUNICARE TRA LORO O CON L'ESTERNO; PERTANTO I TELEFONI CELLULARI ED I DISPOSITIVI MULTIMEDIALI DEVONO RESTARE SPENTI!

Scrivete le vostre risposte in modo ordinato, utilizzando la penna stilografica o la penna a sfera; disegnatte a matita i grafici delle funzioni. In caso di errore, tracciate un segno sulla risposta scorretta e scrivete accanto ad essa quella corretta.

NON È AMMESSO L'USO DELLA CANCELLINA NÈ DELLA PENNA ROSSA! Si possono, invece, utilizzare penne di qualsiasi colore diverso dal ROSSO; è ammesso l'uso della calcolatrice scientifica non programmabile o grafica.

Alle risposte e alle correzioni scritte in modo illeggibile verranno assegnati 0 punti.

Utilizzate i fogli della "brutta copia" (che dovranno essere opportunamente contrassegnati) solo per l'impostazione delle soluzioni, in quanto essi non verranno sottoposti a valutazione.

Le risposte devono riportare tutto il procedimento attraverso il quale si giunge alla soluzione, con i calcoli intermedi e le vostre deduzioni. Punteggi parziali potranno essere assegnati a svolgimenti incompleti o con errori non particolarmente gravi.

Abbiate fiducia in voi stessi e nelle vostre capacità. Buon lavoro!

*Lorenzo Meneghini*

**Testo della prova**

**QUESITO 1 (\_\_\_\_/7)**

Studiare la funzione  $f(x) = 2 \frac{x^2 + 1}{x^2 - 4}$  determinando esplicitamente dominio, parità, segno ed eventuali intersezioni con gli assi, eventuali asintoti, monotonia ed eventuali estremi. Dopo aver verificato che

$f''(x) = 20 \frac{3x^2 + 4}{(x^2 - 4)^3}$ , determinare concavità ed eventuali flessi. Disegnare il grafico della funzione.

**QUESITO 2 (\_\_\_\_/6)**

Classificare i punti di non derivabilità della funzione  $f(x) = \sqrt[3]{x^3 + 2x^2}$  e calcolarne gli estremi relativi.

**QUESITO 3 (\_\_\_\_/6)**

Calcolare i seguenti limiti, specificando quale tra essi non può essere calcolato mediante il Teorema di De l'Hospital:

a)  $\lim_{x \rightarrow 0^+} x \ln(5x) =$

b)  $\lim_{x \rightarrow -\infty} \frac{x \cdot e^{-x}}{x^2 + 2x + 3} =$

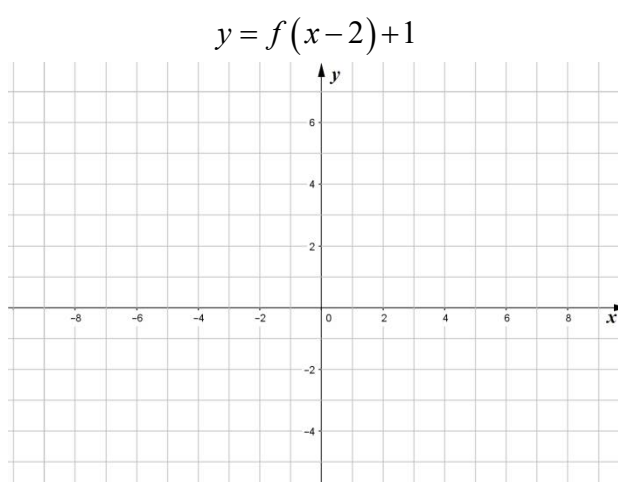
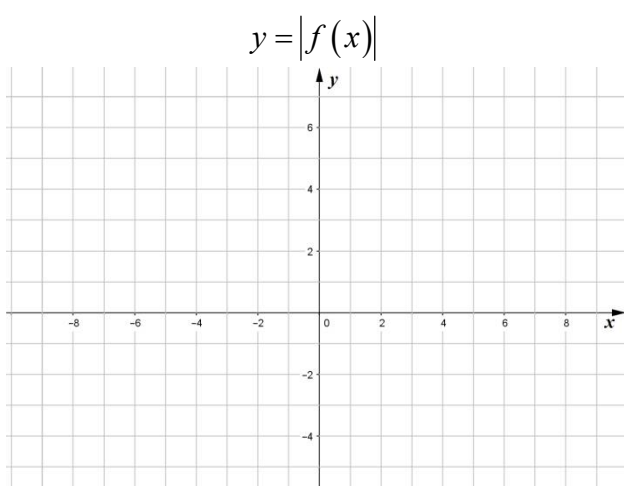
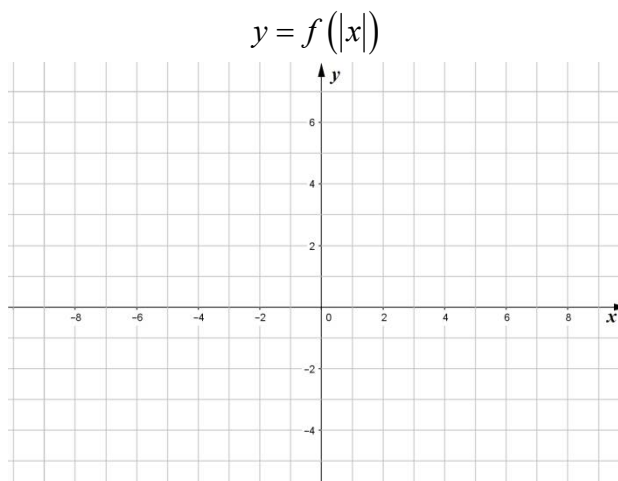
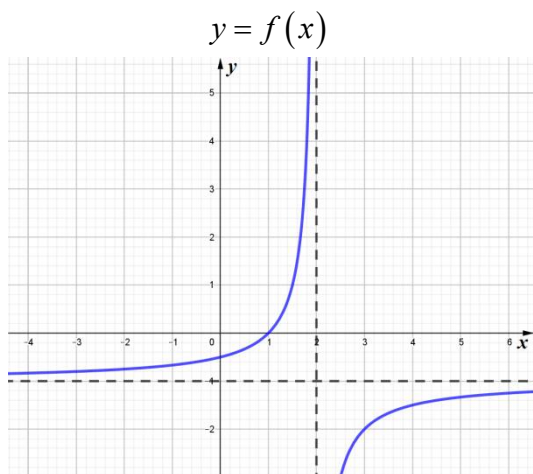
c)  $\lim_{x \rightarrow 0} \frac{x(e^{2x} - 1)}{\ln(4x^2 + 1)} =$

**QUESITO 4 (\_\_\_\_/6)**

Dire se la funzione  $f(x) = x^2 - \frac{4x^2 + x}{x^2 - 4}$  può ammettere asintoti orizzontali od obliqui, motivando la risposta; in caso di risposta negativa, determinare l'eventuale funzione asintotica, specificando di che funzione si tratta. Calcolare, inoltre, la tangente al grafico della curva, passante per il suo punto di ascissa  $-1$ .

**QUESITO 5 (\_\_\_\_/6)**

Dato il grafico della funzione  $f(x)$  in figura, disegnare i grafici delle funzioni indicate, utilizzando gli spazi a disposizione in questo foglio. Dire inoltre se le funzioni trasformate hanno punti di non derivabilità, motivando la risposta, su foglio a parte.



Punteggio totale: \_\_\_\_\_/30



**Svolgimento – Fila B**

**N. 1**

$$f(x) = 2 \frac{x^2 + 1}{x^2 - 4}$$

○ DOMINIO:  $x^2 - 4 \neq 0 \Leftrightarrow x \neq \pm 2$

○ PARITÀ:  $f(-x) = 2 \frac{(-x)^2 + 1}{(-x)^2 - 4} = 2 \frac{x^2 + 1}{x^2 - 4} = f(x)$  per ogni  $x \in D \Rightarrow$  funzione pari (simmetrica rispetto

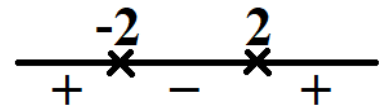
all'asse  $y$ )

○ SEGNO ED INTERSEZIONI CON GLI ASSI:

$$f(x) \geq 0 \Leftrightarrow \frac{x^2 + 1}{x^2 - 4} \geq 0 \Leftrightarrow x^2 - 4 > 0 \text{ dal momento che}$$

$$x^2 + 1 > 0, \forall x \in D \Leftrightarrow x < -2 \vee x > 2$$

$$f(0) = -\frac{1}{2} \Rightarrow \text{la funzione taglia l'asse } y \text{ in } \left(0, -\frac{1}{2}\right)$$



○ RICERCA DEGLI ASINTOTI:

$$\lim_{x \rightarrow +\infty} 2 \frac{x^2 + 1}{x^2 - 4} = \lim_{x \rightarrow +\infty} 2 \frac{x^2 \left(1 + \frac{1}{x^2}\right)}{x^2 \left(1 - \frac{4}{x^2}\right)} = \lim_{x \rightarrow +\infty} 2 \frac{1 + \frac{1}{x^2}}{1 - \frac{4}{x^2}} = 2 \Rightarrow \text{la funzione ammette l'asintoto}$$

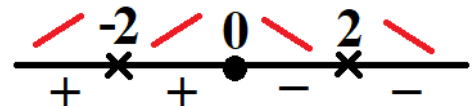
orizzontale  $y = 2$  per  $x \rightarrow +\infty$ ; per parità ammette lo stesso asintoto anche per  $x \rightarrow -\infty$

$$\lim_{x \rightarrow 2^+} 2 \frac{x^2 + 1}{x^2 - 4} = +\infty \text{ e } \lim_{x \rightarrow 2^-} 2 \frac{x^2 + 1}{x^2 - 4} = -\infty \Rightarrow \text{la funzione ammette l'asintoto verticale } x = 2; \text{ per}$$

parità ammette anche l'asintoto verticale  $x = -2$

○ STUDIO DELLA CRESCENZA:

$$f'(x) = 2 \frac{2x(x^2 - 4) - 2x(x^2 + 1)}{(x^2 - 4)^2} = \dots = \frac{-20x}{(x^2 - 4)^2} \geq 0 \Leftrightarrow x \leq 0 \text{ in } D$$



$\left(0, -\frac{1}{2}\right)$  è punto di massimo (relativo) per la curva

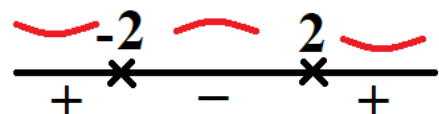
○ STUDIO DELLA CONCAVITÀ:

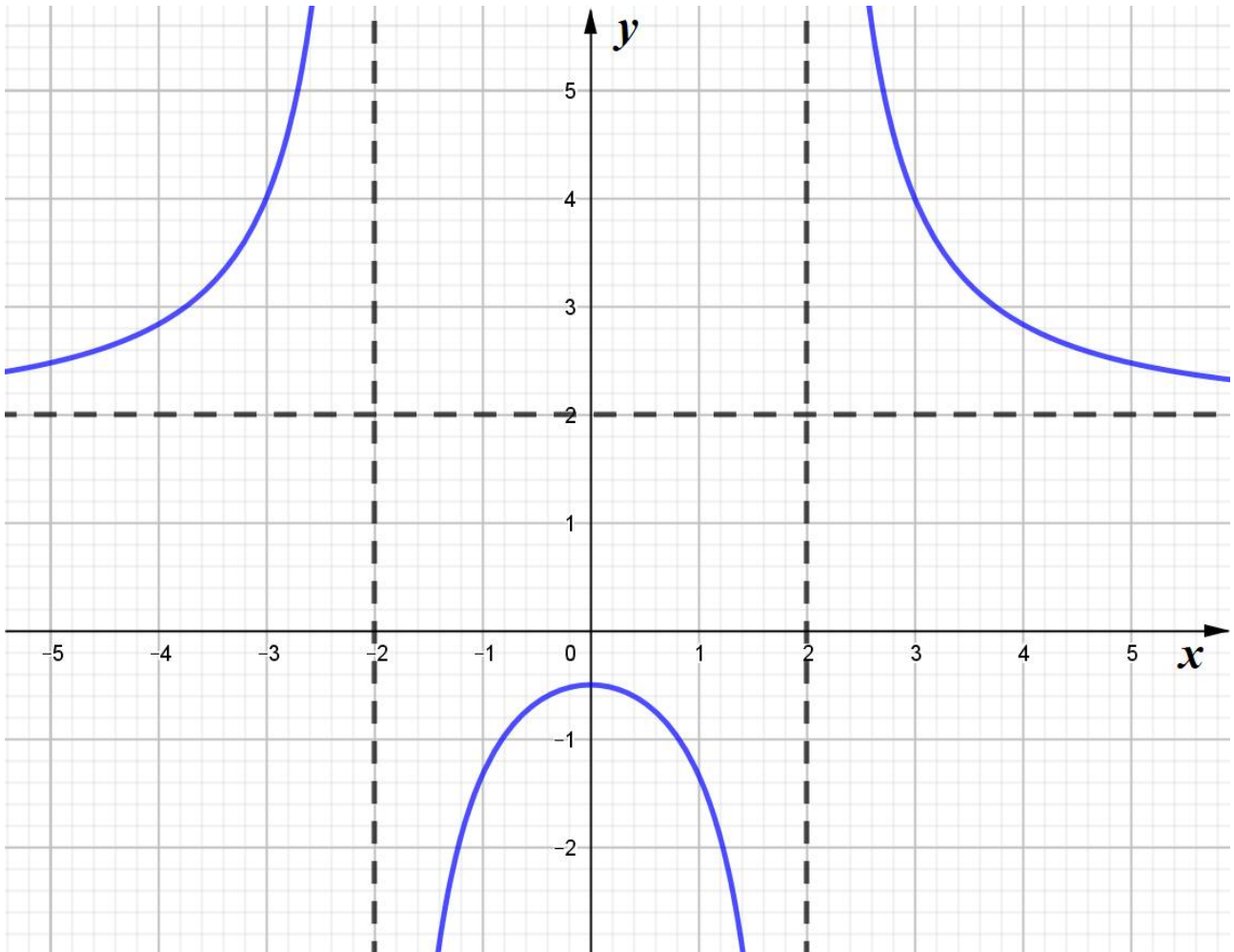
$$f''(x) = -20 \frac{(x^2 - 4)^2 - 2(x^2 - 4) \cdot 2x \cdot x}{(x^2 - 4)^4} = -20 \frac{(x^2 - 4) - 4x^2}{(x^2 - 4)^3} = 20 \frac{3x^2 + 4}{(x^2 - 4)^3} \geq 0$$

Dal momento che  $3x^2 + 4 > 0, \forall x \in D$ , risulta:  $f''(x) \geq 0 \Leftrightarrow x^2 - 4 > 0$

$\Rightarrow$  non vi sono punti di flesso.

Il grafico della funzione è quindi:





**N. 2**

Il dominio della funzione  $f(x) = \sqrt[3]{x^3 + 2x^2}$  è  $D = \mathbb{R}$ , perché la radice è di indice dispari.

Calcoliamone la derivata:

$$f'(x) = \frac{1}{3\sqrt[3]{(x^3 + 2x^2)^2}} (3x^2 + 4x) = \frac{x(3x+4)}{3\sqrt[3]{x^4(x+2)^2}} = \frac{x(3x+4)}{3x\sqrt[3]{x(x+2)^2}} = \frac{3x+4}{3\sqrt[3]{x(x+2)^2}}$$

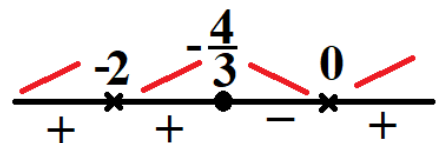
Il dominio della derivata prima è  $D_1 = \mathbb{R} \setminus \{0, -2\}$ .

Analizziamo la derivabilità della funzione in  $x = 0$  e  $x = -2$ .

- $\lim_{x \rightarrow 0} f'(x) = \lim_{x \rightarrow 0} \frac{3x+4}{3\sqrt[3]{x(x+2)^2}} = \infty$
- $\lim_{x \rightarrow -2} f'(x) = \lim_{x \rightarrow -2} \frac{3x+4}{3\sqrt[3]{x(x+2)^2}} = \infty$

In entrambi i casi si tratta di punti a tangente verticale. Dobbiamo decidere se si tratta di flessi a tangente verticale o di cuspidi. Per farlo, studiamo la crescita della funzione:

$$f'(x) \geq 0 \Leftrightarrow \frac{3x-4}{\sqrt[3]{x(x-2)^2}} \geq 0 \Leftrightarrow \frac{3x-4}{\sqrt[3]{x}} \geq 0$$



Quindi la funzione ha una **cuspidi** in  $x = 0$  ed un punto di **flesso a tangente verticale** in  $x = -2$ . Inoltre, la funzione ha un minimo relativo (non stazionario) nella cuspidi ed un massimo stazionario per  $x = -\frac{4}{3}$ .

Più precisamente: MIN  $(0,0)$  e MAX  $\left(-\frac{4}{3}, \frac{2\sqrt[3]{4}}{3}\right)$

### N. 3

$$\text{a) } \lim_{x \rightarrow 0^+} \underbrace{x}_{\downarrow 0} \ln \underbrace{(5x)}_{\downarrow -\infty} = \lim_{x \rightarrow 0^+} \frac{\ln(5x)}{x^{-1}} \stackrel{H}{=} \lim_{x \rightarrow 0^+} \frac{\frac{1}{5x} \cdot 5}{-x^{-2}} = \lim_{x \rightarrow 0^+} \frac{1}{x} \cdot x^2 = \lim_{x \rightarrow 0^+} x = 0$$

$$\text{b) } \lim_{x \rightarrow -\infty} \frac{x \cdot e^{-x}}{x^2 + 2x + 3} \stackrel{H}{=} \lim_{x \rightarrow -\infty} \frac{e^{-x} - xe^{-x}}{2x + 2} = \lim_{x \rightarrow -\infty} \frac{1-x}{2(x+1)} \cdot \underbrace{e^{-x}}_{\downarrow +\infty} = -\infty$$

$$\text{c) } \lim_{x \rightarrow 0} \frac{x(e^{2x} - 1)}{\ln(4x^2 + 1)} = \lim_{x \rightarrow 0} \frac{x^2}{\ln(4x^2 + 1)} \cdot \frac{e^{2x} - 1}{x} = \lim_{x \rightarrow 0} \frac{1}{\underbrace{\ln(4x^2 + 1)}_{\downarrow 4} \cdot \underbrace{2x}_{\downarrow 1}} \cdot 2 = \frac{1}{2} \text{ in questo caso non è}$$

possibile utilizzare il teorema di de l'Hospital, trattandosi del rapporto tra due limiti notevoli.

### N. 4

La funzione  $f(x) = x^2 - \frac{4x^2 + x}{x^2 - 4}$  non può ammettere né asintoti orizzontali né obliqui. Infatti:

$$\circ \lim_{x \rightarrow +\infty} f(x) = \lim_{x \rightarrow +\infty} x^2 - \frac{4x^2 + x}{x^2 - 4} = \lim_{x \rightarrow +\infty} x^2 - \frac{x^2 \left(4 + \frac{1}{x}\right)}{x^2 \left(1 - \frac{4}{x^2}\right)} = \lim_{x \rightarrow +\infty} x^2 - \frac{4 + \frac{1}{x}}{1 - \frac{4}{x^2}} = +\infty$$

$$\circ \lim_{x \rightarrow +\infty} \frac{f(x)}{x} = \lim_{x \rightarrow +\infty} x - \frac{4x + 1}{x^2 - 4} = \lim_{x \rightarrow +\infty} x - \frac{x \left(4 + \frac{1}{x}\right)}{x^2 \left(1 - \frac{4}{x^2}\right)} = \lim_{x \rightarrow +\infty} x - \frac{4 + \frac{1}{x}}{x \left(1 - \frac{4}{x^2}\right)} = \infty$$

Analogamente, anche:

$$\circ \lim_{x \rightarrow -\infty} f(x) = \lim_{x \rightarrow -\infty} x^2 - \frac{4x^2 + x}{x^2 - 4} = \dots = +\infty$$

$$\circ \lim_{x \rightarrow -\infty} \frac{f(x)}{x} = \lim_{x \rightarrow -\infty} x - \frac{4x + 1}{x^2 - 4} = \dots = \infty$$

La funzione ammette, però, una curva asintotica; osserviamo infatti che:

$$f(x) = x^2 - \frac{4x^2 + x}{x^2 - 4} = x^2 - \frac{4x^2 - 16 + 16 + x}{x^2 - 4} = x^2 - \frac{4(x^2 - 4) + 16 + x}{x^2 - 4} = x^2 - 4 - \frac{x + 16}{x^2 - 4}$$

ed essendo (com'è facile verificare)

$$\lim_{x \rightarrow \infty} \frac{x + 16}{x^2 - 4} = 0$$

possiamo concludere che la **parabola** di equazione  $y = x^2 - 4$  è a curva asintotica cercata.

$$\circ f(-1) = 1 - 4 - \frac{-1 + 16}{1 - 4} = -3 + 5 = 2 \Rightarrow \text{la curva passa per } (-1, 2)$$

$$\circ f'(x) = 2x - \frac{x^2 - 4 - (x + 16) \cdot 2x}{(x^2 - 4)^2}$$

○  $f'(-1) = 2 \cdot (-1) - \frac{1-4 - (-1+16) \cdot 2(-1)}{(1-4)^2} = -2 - \frac{-3+30}{9} = -2-3 = -5 \Rightarrow$  coefficiente angolare tangente:

$m = -5$

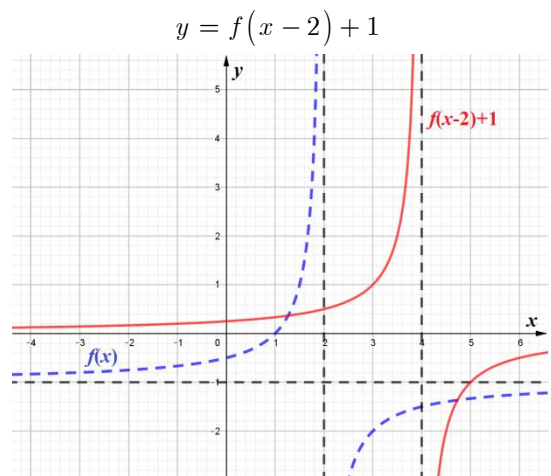
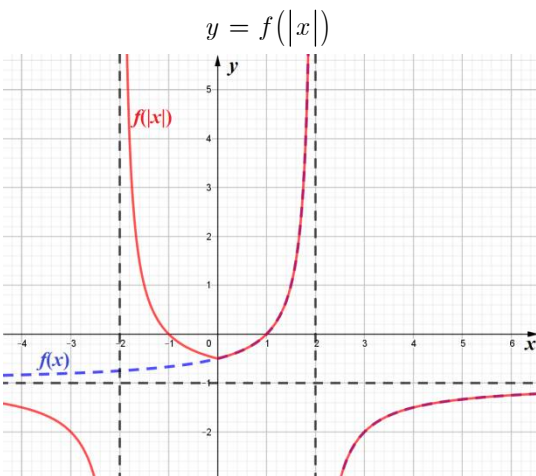
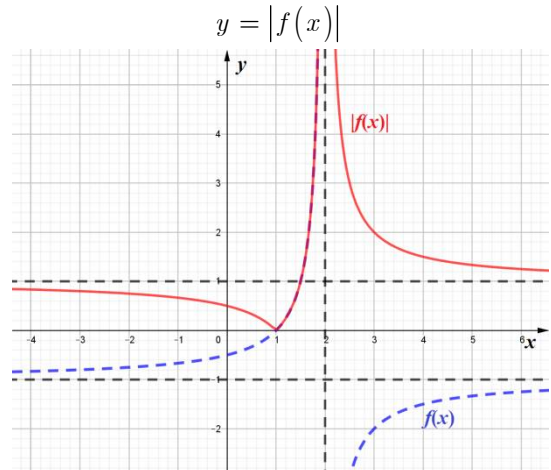
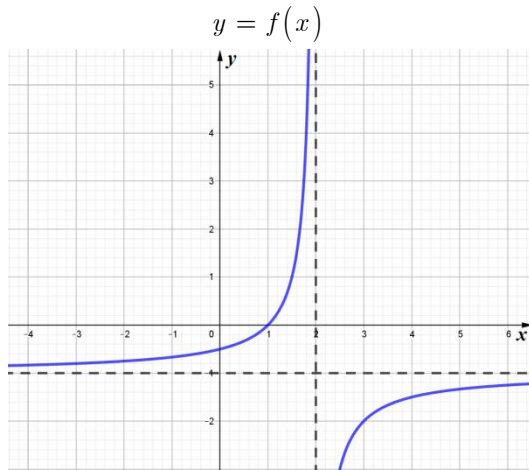
Retta per P(-1,2):

$$y - 2 = m(x + 1)$$

Per  $m = -5$ , allora:

$$y - 2 = -5(x + 1) \Leftrightarrow y = -5x - 3$$

**N. 5**



- La funzione  $y = |f(x)|$  ha un punto angoloso in  $x = 1$  in quanto la funzione  $y = f(x)$  non ha tangente orizzontale per  $x = 1$ . In tal caso, quindi, la funzione  $y = |f(x)|$  avrà, per  $x = 1$ , la tangente destra diversa da quella sinistra.
- La funzione  $y = f(|x|)$  ha un punto angoloso in  $x = 0$  in quanto la funzione  $y = f(x)$  non ha tangente orizzontale per  $x = 0$ . In tal caso, quindi, la funzione  $y = f(|x|)$  avrà, per  $x = 0$ , la tangente destra diversa da quella sinistra.
- La funzione  $y = f(x - 2) + 1$  non ha punti di non derivabilità, in quanto ottenuta da  $y = f(x)$  mediante una traslazione.



**Informazioni personali**

Si prega di indicare il proprio nome, cognome e numero di matricola nei seguenti campi.

Nome e cognome: \_\_\_\_\_ Matricola: \_\_\_\_\_

Si prega inoltre di compilare i seguenti campi, in base alla scelta che si intende fare.

Chiedo che il mio elaborato venga corretto e valutato. Il voto che conseguo con questa prova annulla eventuali voti già conseguiti in appelli d'esame precedenti.

Firma: \_\_\_\_\_ Numero di fogli consegnati: \_\_\_\_\_

Intendo ritirarmi; chiedo che il mio elaborato non venga corretto nè valutato.

Firma: \_\_\_\_\_

**INDICAZIONI PER I CANDIDATI**

DURANTE LA PROVA NON È CONSENTITO AGLI STUDENTI UTILIZZARE TESTI E/O APPUNTI, NÈ COMUNICARE TRA LORO O CON L'ESTERNO; PERTANTO I TELEFONI CELLULARI ED I DISPOSITIVI MULTIMEDIALI DEVONO RESTARE SPENTI!

Scrivete le vostre risposte in modo ordinato, utilizzando la penna stilografica o la penna a sfera; disegnatte a matita i grafici delle funzioni. In caso di errore, tracciate un segno sulla risposta scorretta e scrivete accanto ad essa quella corretta.

NON È AMMESSO L'USO DELLA CANCELLINA NÈ DELLA PENNA ROSSA! Si possono, invece, utilizzare penne di qualsiasi colore diverso dal ROSSO; è ammesso l'uso della calcolatrice scientifica non programmabile o grafica.

Alle risposte e alle correzioni scritte in modo illeggibile verranno assegnati 0 punti.

Utilizzate i fogli della "brutta copia" (che dovranno essere opportunamente contrassegnati) solo per l'impostazione delle soluzioni, in quanto essi non verranno sottoposti a valutazione.

Le risposte devono riportare tutto il procedimento attraverso il quale si giunge alla soluzione, con i calcoli intermedi e le vostre deduzioni. Punteggi parziali potranno essere assegnati a svolgimenti incompleti o con errori non particolarmente gravi.

Abbiate fiducia in voi stessi e nelle vostre capacità. Buon lavoro!

*Lorenzo Meneghini*

**Testo della prova**

**QUESITO 1 (\_\_\_\_/7)**

Studiare la funzione  $f(x) = \frac{x^2 + 1}{1 - x^2}$  determinando esplicitamente dominio, parità, segno ed eventuali intersezioni con gli assi, eventuali asintoti, monotonia ed eventuali estremi. Dopo aver verificato che

$f''(x) = 4 \frac{3x^2 + 1}{(1 - x^2)^3}$ , determinare concavità ed eventuali flessi. Disegnare il grafico della funzione.

**QUESITO 2 (\_\_\_\_/6)**

Classificare i punti di non derivabilità della funzione  $f(x) = \sqrt[3]{x^3 - x^2}$  e calcolarne gli estremi relativi.

**QUESITO 3 (\_\_\_\_/6)**

Dire se la funzione  $f(x) = -x^2 + \frac{4x^2 - x}{x^2 - 4}$  può ammettere asintoti orizzontali od obliqui, motivando la risposta; in caso di risposta negativa, determinare l'eventuale funzione asintotica, specificando di che funzione si tratta. Calcolare, inoltre, la tangente al grafico della curva, passante per il suo punto di ascissa 1.

**QUESITO 4 (\_\_\_\_/6)**

Calcolare i seguenti limiti, specificando quale tra essi non può essere calcolato mediante il Teorema di De l'Hospital:

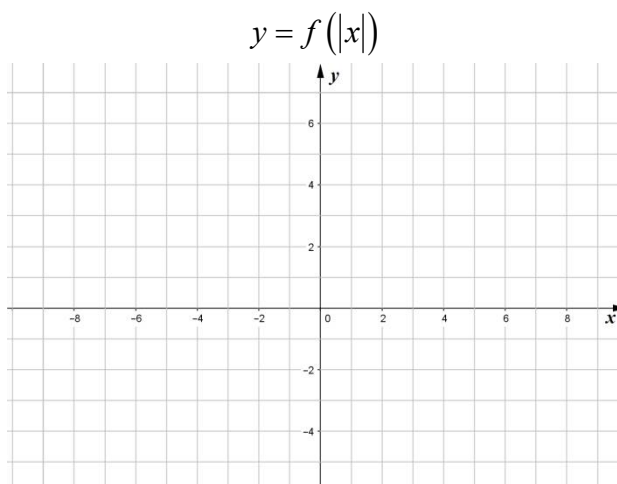
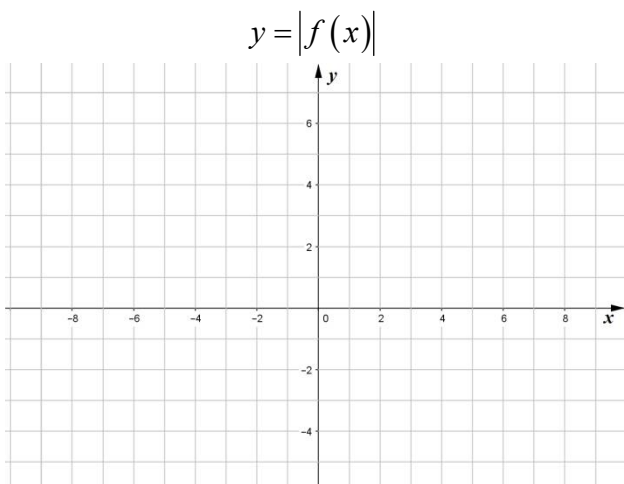
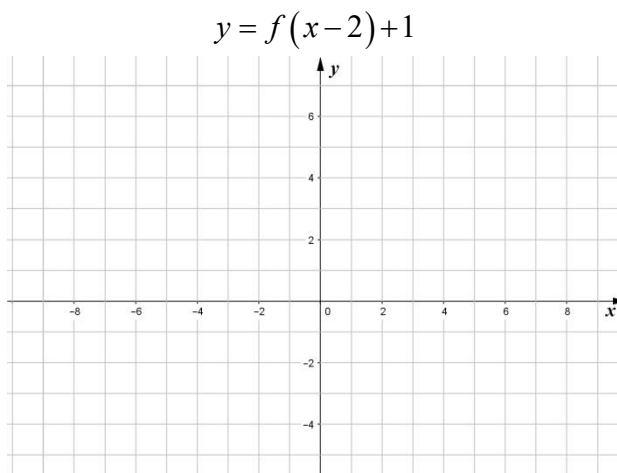
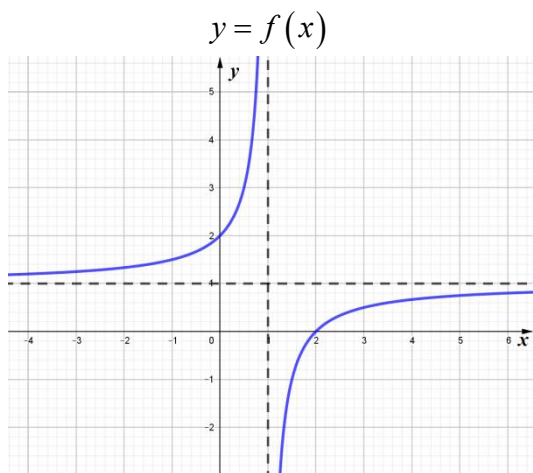
a)  $\lim_{x \rightarrow -\infty} \frac{x \cdot e^{-x}}{x^2 - 5x + 6} =$

b)  $\lim_{x \rightarrow 0^+} x \ln(6x) =$

c)  $\lim_{x \rightarrow 0} \frac{\ln(2x^2 + 1)}{x(e^{3x} - 1)} =$

**QUESITO 5 (\_\_\_\_/6)**

Dato il grafico della funzione  $f(x)$  in figura, disegnare i grafici delle funzioni indicate, utilizzando gli spazi a disposizione in questo foglio. Dire inoltre se le funzioni trasformate hanno punti di non derivabilità, motivando la risposta, su foglio a parte.



**Punteggio totale: \_\_\_\_\_/30**

**Svolgimento – Fila C**

**N. 1**

$$f(x) = \frac{x^2 + 1}{1 - x^2}$$

○ DOMINIO:  $x^2 - 1 \neq 0 \Leftrightarrow x \neq \pm 1$

○ PARITÀ:  $f(-x) = \frac{(-x)^2 + 1}{1 - (-x)^2} = \frac{x^2 + 1}{1 - x^2} = f(x)$  per ogni  $x \in D \Rightarrow$  funzione pari (simmetrica rispetto

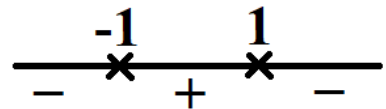
all'asse  $y$ )

○ SEGNO ED INTERSEZIONI CON GLI ASSI:

$$f(x) \geq 0 \Leftrightarrow \frac{x^2 + 1}{1 - x^2} \geq 0 \Leftrightarrow 1 - x^2 > 0 \text{ dal momento che}$$

$$x^2 + 1 > 0, \forall x \in D \Leftrightarrow -1 < x < 1$$

$$f(0) = 1 \Rightarrow \text{la funzione taglia l'asse } y \text{ in } (0,1)$$



○ RICERCA DEGLI ASINTOTI:

$$\lim_{x \rightarrow +\infty} \frac{x^2 + 1}{1 - x^2} = \lim_{x \rightarrow +\infty} \frac{x^2 \left(1 + \frac{1}{x^2}\right)}{x^2 \left(-1 + \frac{1}{x^2}\right)} = \lim_{x \rightarrow +\infty} \frac{1 + \frac{1}{x^2}}{-1 + \frac{1}{x^2}} = -1 \Rightarrow \text{la funzione ammette l'asintoto}$$

orizzontale  $y = -1$  per  $x \rightarrow +\infty$ ; per parità ammette lo stesso asintoto anche per  $x \rightarrow -\infty$

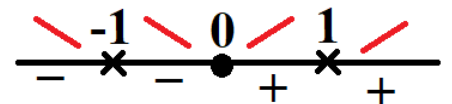
$$\lim_{x \rightarrow 1^+} \frac{x^2 + 1}{1 - x^2} = -\infty \text{ e } \lim_{x \rightarrow 1^-} \frac{x^2 + 1}{1 - x^2} = +\infty \Rightarrow \text{la funzione ammette l'asintoto verticale } x = 1; \text{ per parità}$$

ammette anche l'asintoto verticale  $x = -1$

○ STUDIO DELLA CRESCENZA:

$$f'(x) = \frac{2x(1 - x^2) + 2x(x^2 + 1)}{(1 - x^2)^2} = \dots = 4 \frac{x}{(x^2 - 1)^2} \geq 0 \Leftrightarrow x \geq 0 \text{ in } D$$

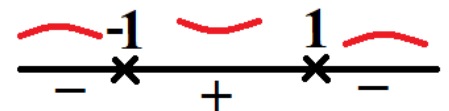
$(0,1)$  è punto di minimo (relativo) per la curva



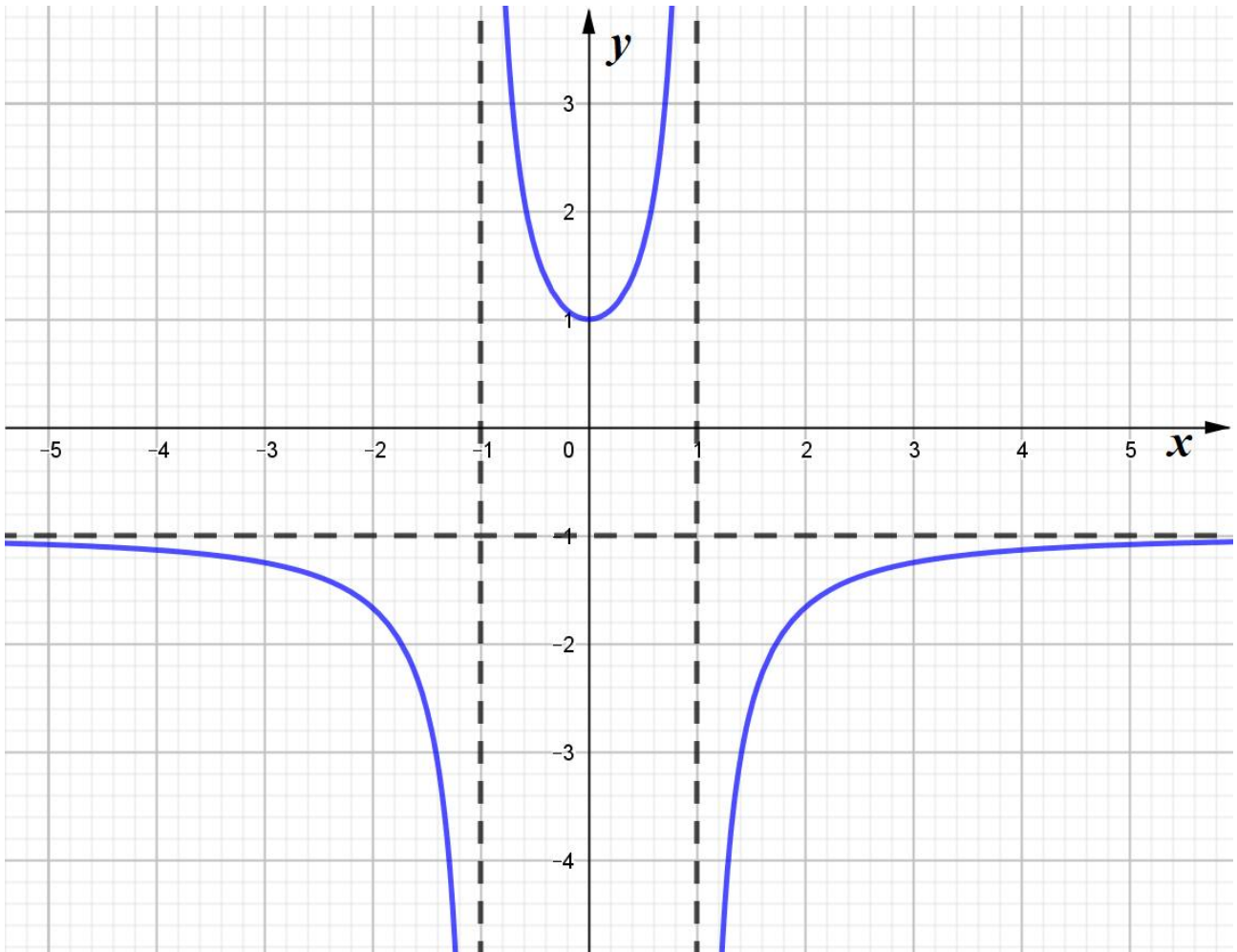
○ STUDIO DELLA CONCAVITÀ:

$$f''(x) = 4 \frac{(x^2 - 1)^2 - 2(x^2 - 1) \cdot 2x \cdot x}{(x^2 - 1)^4} = 4 \frac{(x^2 - 1) - 4x^2}{(x^2 - 1)^3} = -4 \frac{3x^2 + 1}{(x^2 - 1)^3} \geq 0$$

Dal momento che  $3x^2 + 1 > 0, \forall x \in D$ , risulta:  $f''(x) \geq 0 \Leftrightarrow x^2 - 1 < 0 \Rightarrow$  non vi sono punti di flesso.



Il grafico della funzione è quindi:



**N. 2**

Il dominio della funzione  $f(x) = \sqrt[3]{x^3 - x^2}$  è  $D = \mathbb{R}$ , perché la radice è di indice dispari.

Calcoliamone la derivata:

$$f'(x) = \frac{1}{3\sqrt[3]{(x^3 - x^2)^2}} (3x^2 - 2x) = \frac{x(3x - 2)}{3\sqrt[3]{x^4(x-1)^2}} = \frac{x(3x - 2)}{3x\sqrt[3]{x(x-1)^2}} = \frac{(3x - 2)}{3\sqrt[3]{x(x-1)^2}}$$

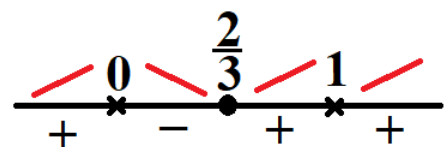
Il dominio della derivata prima è  $D_1 = \mathbb{R} \setminus \{0,1\}$ .

Analizziamo la derivabilità della funzione in  $x = 0$  e  $x = 1$ .

- $\lim_{x \rightarrow 0} f'(x) = \lim_{x \rightarrow 0} \frac{(3x - 2)}{3\sqrt[3]{x(x-1)^2}} = \infty$
- $\lim_{x \rightarrow 1} f'(x) = \lim_{x \rightarrow 1} \frac{(3x - 2)}{3\sqrt[3]{x(x-1)^2}} = \infty$

In entrambi i casi si tratta di punti a tangente verticale. Dobbiamo decidere se si tratta di flessi a tangente verticale o di cuspidi. Per farlo, studiamo la crescenza della funzione:

$$f'(x) \geq 0 \Leftrightarrow \frac{3x - 2}{\sqrt[3]{x(x-1)^2}} \geq 0 \Leftrightarrow \frac{3x - 2}{\sqrt[3]{x}} \geq 0$$



Quindi la funzione ha una **cuspidi** in  $x = 0$  ed un punto di **flesso a tangente verticale** in  $x = 1$ . Inoltre, la funzione ha un massimo relativo (non stazionario) nella cuspidi ed un minimo stazionario per  $x = \frac{2}{3}$ .



Più precisamente: MAX  $(0,0)$  e MIN  $\left(\frac{2}{3}, -\frac{\sqrt[3]{4}}{3}\right)$

**N. 3**

La funzione  $f(x) = -x^2 + \frac{4x^2 - x}{x^2 - 4}$  non può ammettere né asintoti orizzontali né obliqui. Infatti:

$$\begin{aligned} \circ \lim_{x \rightarrow +\infty} f(x) &= \lim_{x \rightarrow +\infty} -x^2 + \frac{4x^2 - x}{x^2 - 4} = \lim_{x \rightarrow +\infty} -x^2 + \frac{x^2 \left(4 - \frac{1}{x}\right)}{x^2 \left(1 - \frac{4}{x^2}\right)} = \lim_{x \rightarrow +\infty} -x^2 + \frac{4 - \frac{1}{x}}{1 - \frac{4}{x^2}} = -\infty \\ \circ \lim_{x \rightarrow +\infty} \frac{f(x)}{x} &= \lim_{x \rightarrow +\infty} -x + \frac{4x - 1}{x^2 - 4} = \lim_{x \rightarrow +\infty} -x + \frac{x \left(4 - \frac{1}{x}\right)}{x^2 \left(1 - \frac{4}{x^2}\right)} = \lim_{x \rightarrow +\infty} -x + \frac{4 - \frac{1}{x}}{x \left(1 - \frac{4}{x^2}\right)} = \infty \end{aligned}$$

Analogamente, anche:

$$\begin{aligned} \circ \lim_{x \rightarrow -\infty} f(x) &= \lim_{x \rightarrow -\infty} -x^2 + \frac{4x^2 - x}{x^2 - 4} = \dots = -\infty \\ \circ \lim_{x \rightarrow -\infty} \frac{f(x)}{x} &= \lim_{x \rightarrow -\infty} -x + \frac{4x - 1}{x^2 - 4} = \dots = \infty \end{aligned}$$

La funzione ammette, però, una curva asintotica; osserviamo infatti che:

$$f(x) = -x^2 + \frac{4x^2 - x}{x^2 - 4} = -x^2 + \frac{4x^2 - 16 + 16 - x}{x^2 - 4} = -x^2 + \frac{4(x^2 - 4) + 16 - x}{x^2 - 4} = -x^2 + 4 - \frac{x - 16}{x^2 - 4}$$

ed essendo (com'è facile verificare)

$$\lim_{x \rightarrow \infty} \frac{x - 16}{x^2 - 4} = 0$$

possiamo concludere che la **parabola** di equazione  $y = -x^2 + 4$  è la curva asintotica cercata.

$$\begin{aligned} \circ f(1) &= -1 + 4 - \frac{1 - 16}{1 - 4} = 3 - 5 = -2 \Rightarrow \text{la curva passa per } (1, -2) \\ \circ f'(x) &= -2x - \frac{x^2 - 4 - (x - 16) \cdot 2x}{(x^2 - 4)^2} \\ \circ f'(1) &= -2 \cdot 1 - \frac{1 - 4 - (1 - 16) \cdot 2}{(1 - 4)^2} = -2 - \frac{-3 + 30}{9} = -2 - 3 = -5 \Rightarrow \text{coefficiente angolare tangente: } m = -5 \end{aligned}$$

Retta per  $P(1, -2)$ :

$$y + 2 = m(x - 1)$$

Per  $m = -5$ , allora:

$$y + 2 = -5(x - 1) \Leftrightarrow y = -5x + 3$$

**N. 4**

$$\text{a) } \lim_{x \rightarrow -\infty} \frac{x \cdot e^{-x}}{x^2 - 5x + 6} =_H \lim_{x \rightarrow -\infty} \frac{e^{-x} - x e^{-x}}{2x - 5} = \lim_{x \rightarrow -\infty} \frac{1 - x}{2x - 5} \cdot \frac{e^{-x}}{\frac{1}{2}} = -\infty$$

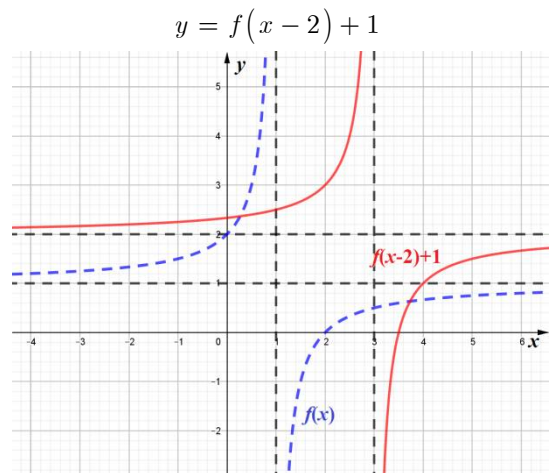
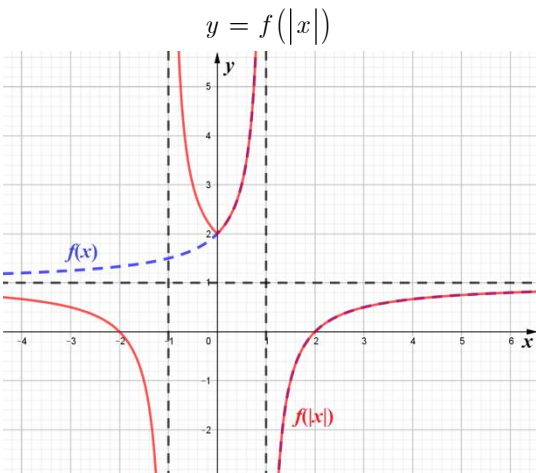
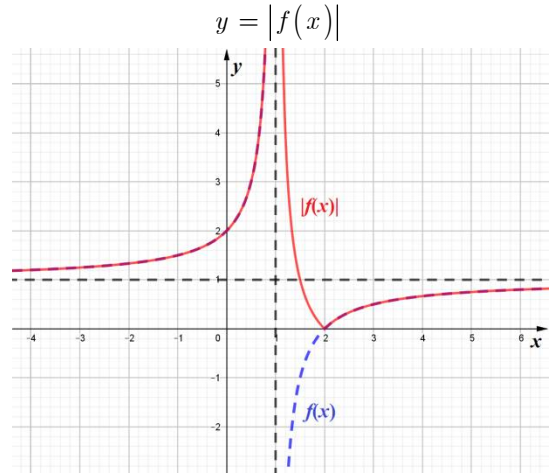
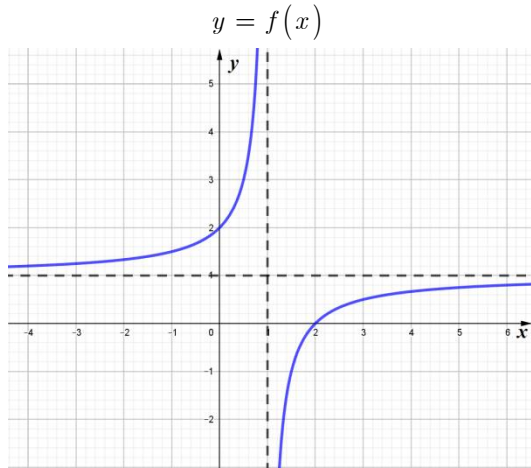
$$\text{b) } \lim_{x \rightarrow 0^+} \frac{x \ln(6x)}{x^{-1}} = \lim_{x \rightarrow 0^+} \frac{\ln(6x)}{x^{-2}} =_H \lim_{x \rightarrow 0^+} \frac{\frac{1}{6x}}{-x^{-2}} = \lim_{x \rightarrow 0^+} \frac{1}{x} \cdot x^2 = \lim_{x \rightarrow 0^+} x = 0$$

$$c) \lim_{x \rightarrow 0} \frac{\ln(2x^2 + 1)}{x(e^{3x} - 1)} = \lim_{x \rightarrow 0} \frac{\ln(2x^2 + 1)}{x^2} \cdot \frac{x}{e^{3x} - 1} = \lim_{x \rightarrow 0} \underbrace{\frac{\ln(2x^2 + 1)}{2x^2}}_1 \cdot 2 \cdot \underbrace{\frac{3x}{e^{3x} - 1}}_1 \cdot \frac{1}{3} = \frac{2}{3}$$

in questo caso non è

possibile utilizzare il teorema di de l'Hospital, trattandosi del rapporto tra due limiti notevoli.

**N. 5**



- La funzione  $y = |f(x)|$  ha un punto angoloso in  $x = 2$  in quanto la funzione  $y = f(x)$  non ha tangente orizzontale per  $x = 2$ . In tal caso, quindi, la funzione  $y = |f(x)|$  avrà, per  $x = 2$ , la tangente destra diversa da quella sinistra.
- La funzione  $y = f(|x|)$  ha un punto angoloso in  $x = 0$  in quanto la funzione  $y = f(x)$  non ha tangente orizzontale per  $x = 0$ . In tal caso, quindi, la funzione  $y = f(|x|)$  avrà, per  $x = 0$ , la tangente destra diversa da quella sinistra.
- La funzione  $y = f(x - 2) + 1$  non ha punti di non derivabilità, in quanto ottenuta da  $y = f(x)$  mediante una traslazione.



**Informazioni personali**

Si prega di indicare il proprio nome, cognome e numero di matricola nei seguenti campi.

Nome e cognome: \_\_\_\_\_ Matricola: \_\_\_\_\_

Si prega inoltre di compilare i seguenti campi, in base alla scelta che si intende fare.

Chiedo che il mio elaborato venga corretto e valutato. Il voto che conseguo con questa prova annulla eventuali voti già conseguiti in appelli d'esame precedenti.

Firma: \_\_\_\_\_ Numero di fogli consegnati: \_\_\_\_\_

Intendo ritirarmi; chiedo che il mio elaborato non venga corretto nè valutato.

Firma: \_\_\_\_\_

**INDICAZIONI PER I CANDIDATI**

DURANTE LA PROVA NON È CONSENTITO AGLI STUDENTI UTILIZZARE TESTI E/O APPUNTI, NÈ COMUNICARE TRA LORO O CON L'ESTERNO; PERTANTO I TELEFONI CELLULARI ED I DISPOSITIVI MULTIMEDIALI DEVONO RESTARE SPENTI!

Scrivete le vostre risposte in modo ordinato, utilizzando la penna stilografica o la penna a sfera; disegnatte a matita i grafici delle funzioni. In caso di errore, tracciate un segno sulla risposta scorretta e scrivete accanto ad essa quella corretta.

NON È AMMESSO L'USO DELLA CANCELLINA NÈ DELLA PENNA ROSSA! Si possono, invece, utilizzare penne di qualsiasi colore diverso dal ROSSO; è ammesso l'uso della calcolatrice scientifica non programmabile o grafica.

Alle risposte e alle correzioni scritte in modo illeggibile verranno assegnati 0 punti.

Utilizzate i fogli della "brutta copia" (che dovranno essere opportunamente contrassegnati) solo per l'impostazione delle soluzioni, in quanto essi non verranno sottoposti a valutazione.

Le risposte devono riportare tutto il procedimento attraverso il quale si giunge alla soluzione, con i calcoli intermedi e le vostre deduzioni. Punteggi parziali potranno essere assegnati a svolgimenti incompleti o con errori non particolarmente gravi.

Abbiate fiducia in voi stessi e nelle vostre capacità. Buon lavoro!

*Lorenzo Meneghini*

**Testo della prova**

**QUESITO 1 (\_\_\_\_/7)**

Studiare la funzione  $f(x) = \frac{x^2 + 2}{x^2 - 1}$  determinando esplicitamente dominio, parità, segno ed eventuali intersezioni con gli assi, eventuali asintoti, monotonia ed eventuali estremi. Dopo aver verificato che

$f''(x) = 6 \frac{3x^2 + 1}{(x^2 - 1)^3}$ , determinare concavità ed eventuali flessi. Disegnare il grafico della funzione.

**QUESITO 2 (\_\_\_\_/6)**

Dire se la funzione  $f(x) = -x^2 + \frac{4x^2 + x}{x^2 - 4}$  può ammettere asintoti orizzontali od obliqui, motivando la risposta;

in caso di risposta negativa, determinare l'eventuale funzione asintotica, specificando di che funzione si tratta. Calcolare, inoltre, la tangente al grafico della curva, passante per il suo punto di ascissa - 1.

**QUESITO 3 (\_\_\_\_/6)**

Calcolare i seguenti limiti, specificando quale tra essi non può essere calcolato mediante il Teorema di De l'Hospital:

a)  $\lim_{x \rightarrow +\infty} \frac{x \cdot e^x}{x^2 + 5x + 6} =$

b)  $\lim_{x \rightarrow 0^+} x \ln(7x) =$

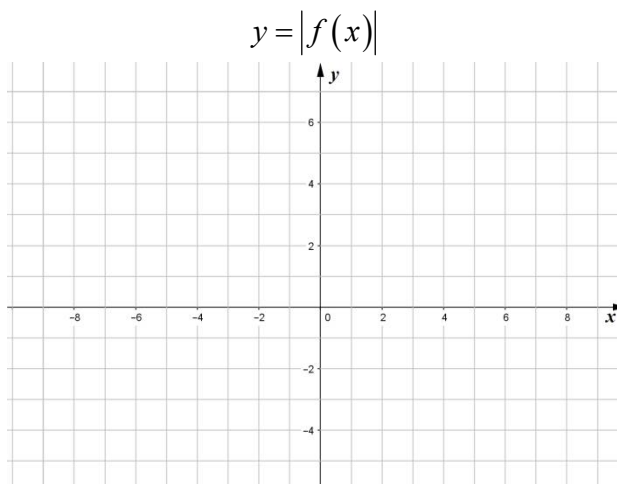
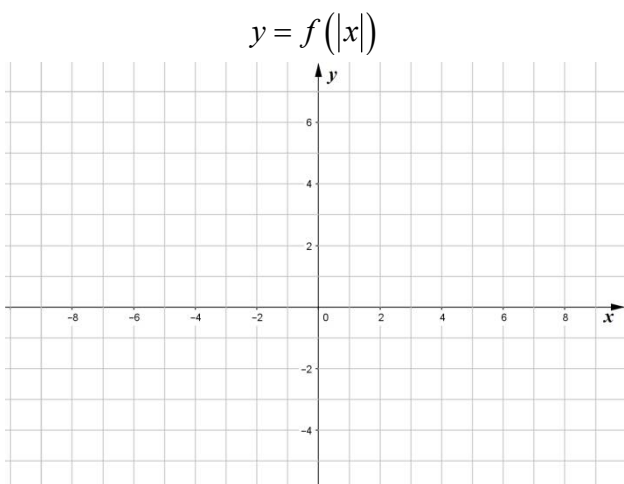
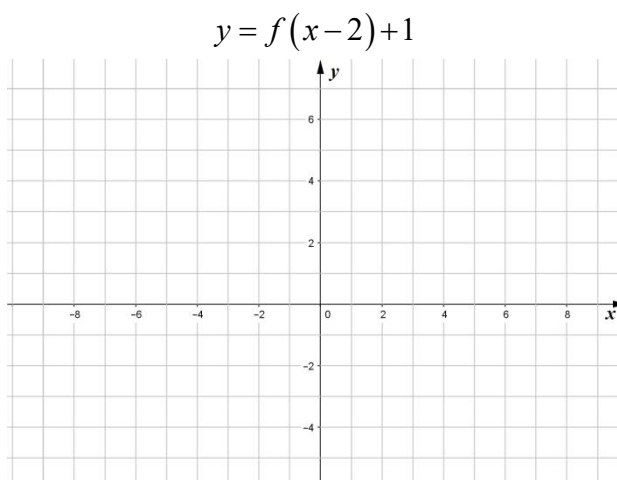
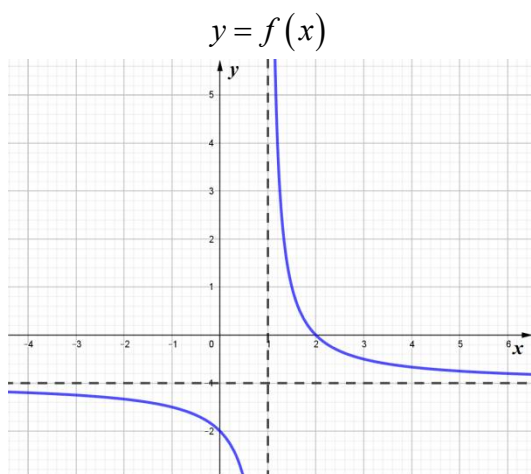
c)  $\lim_{x \rightarrow 0} \frac{\ln(5x^2 + 1)}{x(e^{4x} - 1)} =$

**QUESITO 4 (\_\_\_\_/6)**

Classificare i punti di non derivabilità della funzione  $f(x) = \sqrt[3]{x^3 + x^2}$  e calcolarne gli estremi relativi.

**QUESITO 5 (\_\_\_\_/6)**

Dato il grafico della funzione  $f(x)$  in figura, disegnare i grafici delle funzioni indicate, utilizzando gli spazi a disposizione in questo foglio. Dire inoltre se le funzioni trasformate hanno punti di non derivabilità, motivando la risposta, su foglio a parte.



Punteggio totale: \_\_\_\_\_/30

**Svolgimento – Fila D**

**N. 1**

$$f(x) = \frac{x^2 + 2}{x^2 - 1}$$

- DOMINIO:  $x^2 - 1 \neq 0 \Leftrightarrow x \neq \pm 1$
- PARITÀ:  $f(-x) = \frac{(-x)^2 + 2}{(-x)^2 - 1} = \frac{x^2 + 2}{x^2 - 1} = f(x)$  per ogni  $x \in D \Rightarrow$  funzione pari (simmetrica rispetto

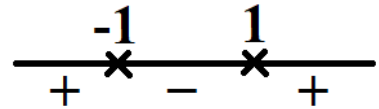
all'asse  $y$ )

- SEGNO ED INTERSEZIONI CON GLI ASSI:

$$f(x) \geq 0 \Leftrightarrow \frac{x^2 + 2}{x^2 - 1} \geq 0 \Leftrightarrow x^2 - 1 > 0 \text{ dal momento che}$$

$$x^2 + 2 > 0, \forall x \in D \Leftrightarrow x < -1 \vee x > 1$$

$$f(0) = -2 \Rightarrow \text{la funzione taglia l'asse } y \text{ in } (0, -2)$$



- RICERCA DEGLI ASINTOTI:

$$\lim_{x \rightarrow +\infty} \frac{x^2 + 2}{x^2 - 1} = \lim_{x \rightarrow +\infty} \frac{x^2 \left(1 + \frac{2}{x^2}\right)}{x^2 \left(1 - \frac{1}{x^2}\right)} = \lim_{x \rightarrow +\infty} \frac{1 + \frac{2}{x^2}}{1 - \frac{1}{x^2}} = 1 \Rightarrow \text{la funzione ammette l'asintoto orizzontale}$$

$y = 1$  per  $x \rightarrow +\infty$ ; per parità ammette lo stesso asintoto anche per  $x \rightarrow -\infty$

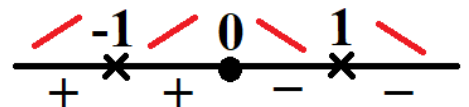
$$\lim_{x \rightarrow 1^+} \frac{x^2 + 2}{x^2 - 1} = +\infty \text{ e } \lim_{x \rightarrow 1^-} \frac{x^2 + 2}{x^2 - 1} = -\infty \Rightarrow \text{la funzione ammette l'asintoto verticale } x = 1; \text{ per parità}$$

ammette anche l'asintoto verticale  $x = -1$

- STUDIO DELLA CRESCENZA:

$$f'(x) = \frac{2x(x^2 - 1) - 2x(x^2 + 2)}{(x^2 - 1)^2} = \dots = -6 \frac{x}{(x^2 - 1)^2} \geq 0 \Leftrightarrow x \leq 0 \text{ in } D$$

$(0, -2)$  è punto di massimo (relativo) per la curva

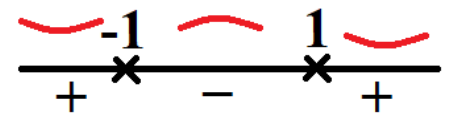


- STUDIO DELLA CONCAVITÀ:

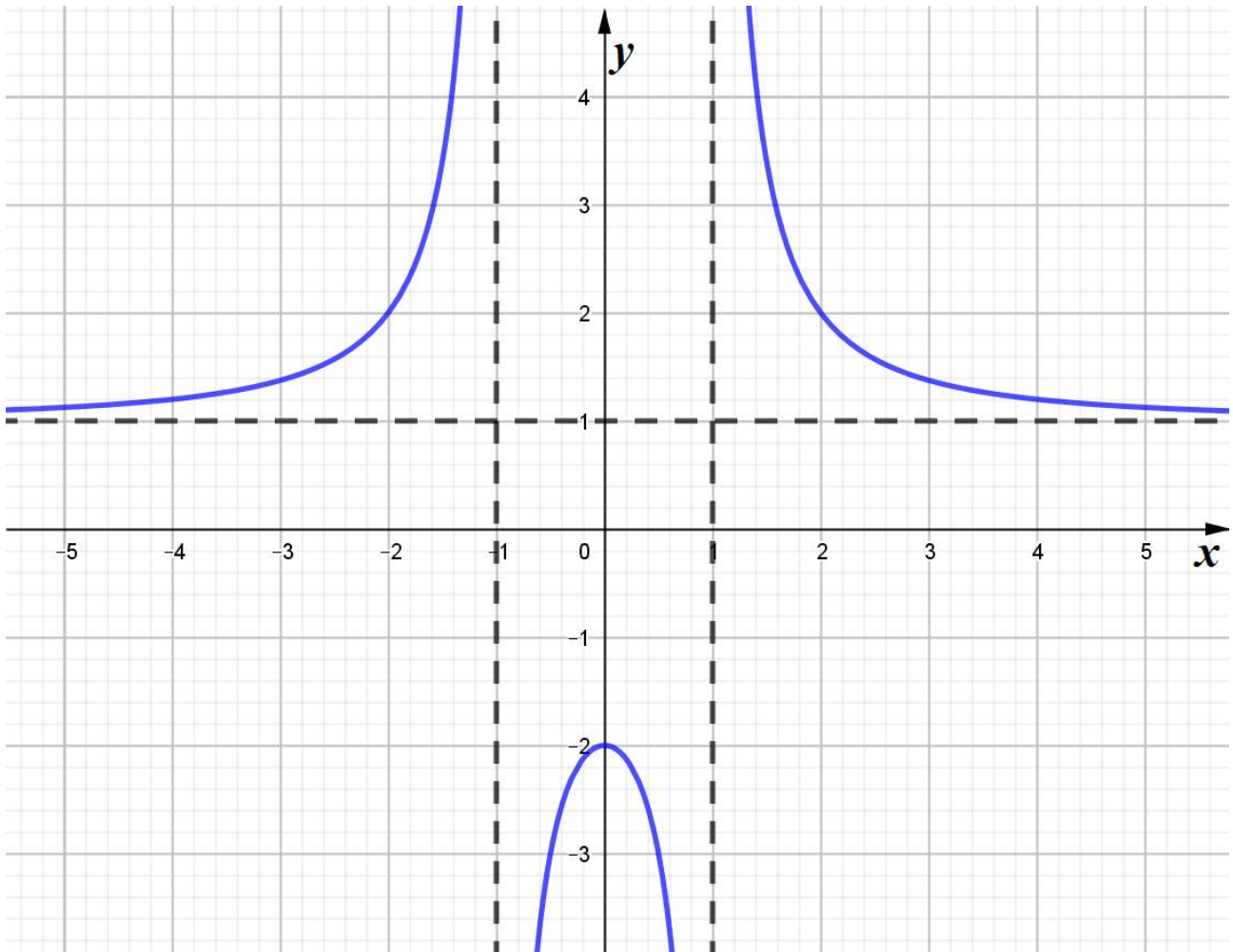
$$f''(x) = -6 \frac{(x^2 - 1)^2 - 2(x^2 - 1) \cdot 2x \cdot x}{(x^2 - 1)^4} = -6 \frac{(x^2 - 1) - 4x^2}{(x^2 - 1)^3} = 6 \frac{3x^2 + 1}{(x^2 - 1)^3} \geq 0$$

Dal momento che  $3x^2 + 1 > 0, \forall x \in D$ , risulta:  $f''(x) \geq 0 \Leftrightarrow x^2 - 1 > 0$

$\Rightarrow$  non vi sono punti di flesso.



Il grafico della funzione è quindi:



**N. 2**

La funzione  $f(x) = -x^2 + \frac{4x^2 + x}{x^2 - 4}$  non può ammettere né asintoti orizzontali né obliqui. Infatti:

- $\lim_{x \rightarrow +\infty} f(x) = \lim_{x \rightarrow +\infty} -x^2 + \frac{4x^2 + x}{x^2 - 4} = \lim_{x \rightarrow +\infty} -x^2 + \frac{x^2 \left(4 + \frac{1}{x}\right)}{x^2 \left(1 - \frac{4}{x^2}\right)} = \lim_{x \rightarrow +\infty} -x^2 + \frac{4 + \frac{1}{x}}{1 - \frac{4}{x^2}} = -\infty$
- $\lim_{x \rightarrow +\infty} \frac{f(x)}{x} = \lim_{x \rightarrow +\infty} -x + \frac{4x + 1}{x^2 - 4} = \lim_{x \rightarrow +\infty} -x + \frac{x \left(4 + \frac{1}{x}\right)}{x^2 \left(1 - \frac{4}{x^2}\right)} = \lim_{x \rightarrow +\infty} -x + \frac{4 + \frac{1}{x}}{x \left(1 - \frac{4}{x^2}\right)} = \infty$

Analogamente, anche:

- $\lim_{x \rightarrow -\infty} f(x) = \lim_{x \rightarrow -\infty} -x^2 + \frac{4x^2 + x}{x^2 - 4} = \dots = -\infty$
- $\lim_{x \rightarrow -\infty} \frac{f(x)}{x} = \lim_{x \rightarrow -\infty} -x + \frac{4x + 1}{x^2 - 4} = \dots = \infty$

La funzione ammette, però, una curva asintotica; osserviamo infatti che:

$$f(x) = -x^2 + \frac{4x^2 + x}{x^2 - 4} = -x^2 + \frac{4x^2 - 16 + 16 + x}{x^2 - 4} = -x^2 + \frac{4(x^2 - 4) + 16 + x}{x^2 - 4} = -x^2 + 4 + \frac{x + 16}{x^2 - 4}$$

ed essendo (com'è facile verificare)

$$\lim_{x \rightarrow \infty} \frac{x + 16}{x^2 - 4} = 0$$

possiamo concludere che la **parabola** di equazione  $y = -x^2 + 4$  è a curva asintotica cercata.

- $f(-1) = -1 + 4 + \frac{-1+16}{1-4} = 3 - 5 = -2 \Rightarrow$  la curva passa per  $(-1, -2)$
- $f'(x) = -2x + \frac{x^2 - 4 - (x+16) \cdot 2x}{(x^2 - 4)^2}$
- $f'(-1) = 2 + \frac{1-4 - (-1+16) \cdot (-2)}{(1-4)^2} = 2 + \frac{-3+30}{9} = 2 + 3 = 5 \Rightarrow$  coefficiente angolare tangente:  $m = 5$

Retta per  $P(-1, -2)$ :

$$y + 2 = m(x + 1)$$

Per  $m = 5$ , allora:

$$y + 2 = 5(x + 1) \Leftrightarrow y = 5x + 3$$

### N. 3

- a)  $\lim_{x \rightarrow +\infty} \frac{x \cdot e^x}{x^2 + 5x + 6} \stackrel{H}{=} \lim_{x \rightarrow +\infty} \frac{e^x + x e^x}{2x + 5} = \lim_{x \rightarrow +\infty} \frac{x + 1}{2x + 5} \cdot \frac{e^x}{1} = +\infty$
- b)  $\lim_{x \rightarrow 0^+} x \ln(7x) = \lim_{x \rightarrow 0^+} \frac{\ln(7x)}{x^{-1}} \stackrel{H}{=} \lim_{x \rightarrow 0^+} \frac{\frac{1}{7x} \cdot 7}{-x^{-2}} = \lim_{x \rightarrow 0^+} \frac{1}{x} \cdot x^2 = \lim_{x \rightarrow 0^+} x = 0$
- c)  $\lim_{x \rightarrow 0} \frac{\ln(5x^2 + 1)}{x(e^{4x} - 1)} = \lim_{x \rightarrow 0} \frac{\ln(5x^2 + 1)}{x^2} \cdot \frac{x}{e^{4x} - 1} = \lim_{x \rightarrow 0} \frac{\ln(5x^2 + 1)}{5x^2} \cdot 5 \cdot \frac{4x}{e^{4x} - 1} \cdot \frac{1}{4} = \frac{5}{4}$  in questo caso non è

possibile utilizzare il teorema di de l'Hospital, trattandosi del rapporto tra due limiti notevoli.

### N. 4

Il dominio della funzione  $f(x) = \sqrt[3]{x^3 + x^2}$  è  $D = \mathbb{R}$ , perché la radice è di indice dispari.

Calcoliamone la derivata:

$$f'(x) = \frac{1}{3\sqrt[3]{(x^3 + x^2)^2}} (3x^2 + 2x) = \frac{x(3x + 2)}{3\sqrt[3]{x^4(x + 1)^2}} = \frac{x(3x + 2)}{3x\sqrt[3]{x(x + 1)^2}} = \frac{(3x + 2)}{3\sqrt[3]{x(x + 1)^2}}$$

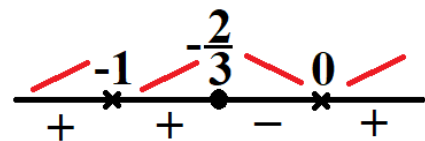
Il dominio della derivata prima è  $D_1 = \mathbb{R} \setminus \{0, -1\}$ .

Analizziamo la derivabilità della funzione in  $x = 0$  e  $x = -1$ .

- $\lim_{x \rightarrow 0} f'(x) = \lim_{x \rightarrow 0} \frac{(3x + 2)}{3\sqrt[3]{x(x + 1)^2}} = \infty$
- $\lim_{x \rightarrow -1} f'(x) = \lim_{x \rightarrow -1} \frac{(3x + 2)}{3\sqrt[3]{x(x + 1)^2}} = \infty$

In entrambi i casi si tratta di punti a tangente verticale. Dobbiamo decidere se si tratta di flessi a tangente verticale o di cuspidi. Per farlo, studiamo la crescenza della funzione:

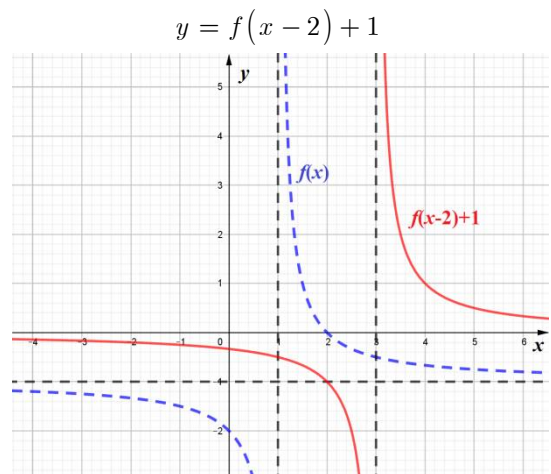
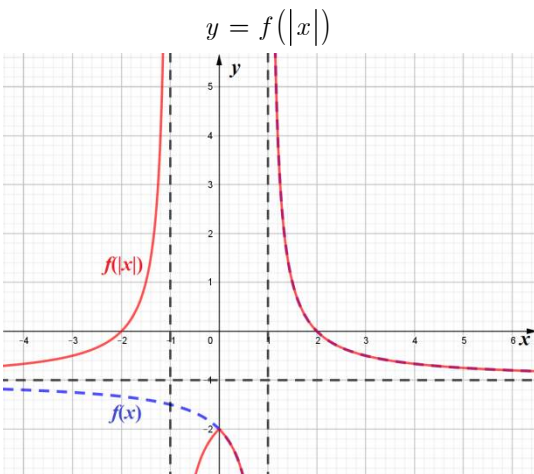
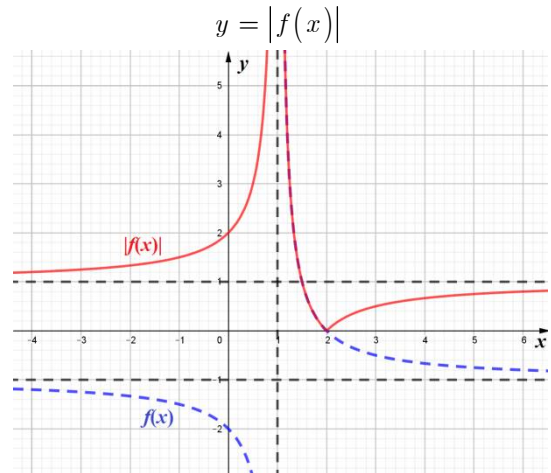
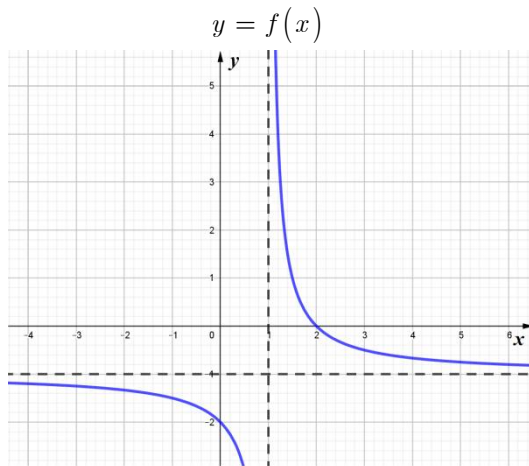
$$f'(x) \geq 0 \Leftrightarrow \frac{3x - 2}{\sqrt[3]{x(x - 1)^2}} \geq 0 \Leftrightarrow \frac{3x + 2}{\sqrt[3]{x}} \geq 0$$



Quindi la funzione ha una **cuspid** in  $x = 0$  ed un punto di **flesso a tangente verticale** in  $x = -1$ . Inoltre, la funzione ha un minimo relativo (non stazionario) nella cuspid e un massimo stazionario per  $x = -\frac{2}{3}$ .

Più precisamente: MIN  $(0,0)$  e MAX  $\left(\frac{2}{3}, \frac{\sqrt[3]{4}}{3}\right)$

**N. 5**



- La funzione  $y = |f(x)|$  ha un punto angoloso in  $x = 2$  in quanto la funzione  $y = f(x)$  non ha tangente orizzontale per  $x = 2$ . In tal caso, quindi, la funzione  $y = |f(x)|$  avrà, per  $x = 2$ , la tangente destra diversa da quella sinistra.
- La funzione  $y = f(|x|)$  ha un punto angoloso in  $x = 0$  in quanto la funzione  $y = f(x)$  non ha tangente orizzontale per  $x = 0$ . In tal caso, quindi, la funzione  $y = f(|x|)$  avrà, per  $x = 0$ , la tangente destra diversa da quella sinistra.
- La funzione  $y = f(x - 2) + 1$  non ha punti di non derivabilità, in quanto ottenuta da  $y = f(x)$  mediante una traslazione.